

932

825 (FA)

2023

सामाजिक विज्ञान

समय : तीन घण्टे 15 मिनट]

[पूर्णांक : 70

सामान्य निर्देश :

- (i) प्रारम्भ के 15 मिनट परीक्षार्थियों को प्रश्न-पत्र पढ़ने के लिए निर्धारित हैं ।
- (ii) सभी प्रश्न अनिवार्य हैं ।
- (iii) यह प्रश्न-पत्र दो खण्डों, अ और ब में विभाजित है ।
- (iv) खण्ड-अ में 20 अंकों के 20 बहुविकल्पीय प्रश्न हैं । इनका उत्तर ओ.एम.आर. शीट पर दिया जाना है ।
- (v) ओ.एम.आर. शीट पर उत्तर अंकित किए जाने के पश्चात् उसे काटें नहीं तथा इरेज़र (Eraser) एवं व्हाइटनर (Whitener) आदि का प्रयोग न करें ।
- (vi) खण्ड-ब 50 अंकों का है । इसमें दो प्रकार के प्रश्न हैं, वर्णनात्मक-1 तथा वर्णनात्मक-2 । मानचित्र सम्बन्धी दो प्रश्न (प्र.सं. 29 (क) व 29 (ख)) हैं ।
- (vii) प्रत्येक प्रश्न के लिए निर्धारित अंक उसके सम्मुख अंकित हैं ।
- (viii) दिए गए मानचित्रों को प्रश्न-पत्र से फाड़कर, उन पर उत्तर अंकित कीजिए तथा मानचित्रों को उत्तर-पुस्तिका में मज़बूती के साथ अवश्य सलग्न कीजिए ।
- (ix) दृष्टिबाधित परीक्षार्थियों के लिए मानचित्र-कार्य के स्थान पर अलग से प्रश्न लिखने के लिए दिए गए हैं ।

खण्ड - अ

(बहुविकल्पीय प्रश्न)

1. भारतीय राष्ट्रीय काँग्रेस की स्थापना कब हुई ? 1
 (A) 1882 (B) 1885 (C) 1887 (D) 1880
2. आर्थिक महामंदी का प्रारम्भ कब से हुआ ? 1
 (A) 1928 (B) 1929 (C) 1930 (D) 1932

3. यह किसका कथन है "जब फ्रांस छीकता है, तो बाकी यूरोप को सर्दी-जुकाम हो जाता है" ? 1
 (A) बिस्मार्क (B) कावूर (C) मेज़िनी (मेत्सिनी) (D) मेटरनिख
4. जर्मनी के एकीकरण में मुख्य भूमिका किसकी थी ? 1
 (A) ज्युसेपे गैरीबाल्डी (B) नेपोलियन बोनापार्ट
 (C) ऑटो वॉन बिस्मार्क (D) विलियम प्रथम
5. भारत में 'राष्ट्रपिता' कहकर किसको सम्बोधित किया जाता है ? 1
 (A) जवाहरलाल नेहरू (B) महात्मा गाँधी
 (C) बाल गंगाधर तिलक (D) सरदार पटेल
6. बेल्जियम की सामुदायिक सरकार में निम्नलिखित में से किसके मध्य सत्ता में साझेदारी है ? 1
 (A) विभिन्न सामाजिक समूहों के मध्य
 (B) शासन के विभिन्न अंगों के मध्य
 (C) केन्द्रीय और राज्य सरकारों के मध्य
 (D) राज्य सरकार एवं सामुदायिक सरकार के मध्य
7. निम्नलिखित में से कौन-सा संघ सूची का विषय है ? 1
 (A) व्यापार (B) कृषि (C) शिक्षा (D) रक्षा
8. भारतीय संघ में कितने राज्य हैं ? 1
 (A) 26 (B) 27 (C) 28 (D) 29
9. यदि हम लैंगिक भेदभाव की बात करते हैं, तो उसका अर्थ होता है 1
 (A) समाज में स्त्री एवं पुरुष की असमान भूमिका
 (B) स्त्री एवं पुरुष के मध्य जैविक भिन्नता
 (C) बालक एवं बालिकाओं की संख्या में असमानता
 (D) उपर्युक्त में से कोई नहीं
10. भारत में सबसे अधिक बोली जाने वाली भाषा कौन-सी है ? 1
 (A) पंजाबी (B) कश्मीरी
 (C) हिन्दी (D) उर्दू

11. निम्नलिखित में से कौन-सा परम्परागत संसाधन है ? 1
 (A) पवन ऊर्जा (B) सौर ऊर्जा (C) प्राकृतिक गैस (D) ज्वारीय ऊर्जा
12. लैटेराइट मिट्टी निम्नलिखित में से किस राज्य में पाई जाती है ? 1
 (A) राजस्थान (B) हिमाचल प्रदेश (C) महाराष्ट्र (D) उत्तर प्रदेश
13. निम्नलिखित में से कौन-सा राज्य ताँबा का मुख्य उत्पादक है ? 1
 (A) मध्य प्रदेश (B) उत्तर प्रदेश (C) तमिलनाडु (D) बिहार
14. निम्नलिखित में से कौन-सा खनिज अधात्विक है ? 1
 (A) मैंगनीज़ (B) अभ्रक (C) बॉक्साइट (D) जस्ता
15. निम्नलिखित में से कौन-सा संसाधन अजैव है ? 1
 (A) पशुधन (B) प्राकृतिक वनस्पति
 (C) चट्टानें (D) मत्स्य
16. निम्नलिखित में से किस राज्य में अधिकतम साक्षरता दर पाई जाती है ? 1
 (A) बिहार (B) पश्चिम बंगाल (C) केरल (D) मध्य प्रदेश
17. निम्नलिखित में से कौन-सा व्यक्ति कृषिव्यवस्था के प्राथमिक क्षेत्र से सम्बन्धित है ? 1
 (A) मछुआरा (B) शिक्षक
 (C) डाकिया (D) व्यापारी
18. सूचना का अधिकार अधिनियम कब लागू किया गया ? 1
 (A) 2005 (B) 2010 (C) 1999 (D) 2001
19. उपभोक्ता को न्याय पाने के लिए कहाँ जाना चाहिए ? 1
 (A) पुलिस स्टेशन (B) सिविल न्यायालय
 (C) उपयुक्त उपभोक्ता केन्द्र (D) जिलाधिकारी (जिला मजिस्ट्रेट)
20. निम्नलिखित में से कौन-सा व्यक्ति असंगठित क्षेत्रक के अन्तर्गत आता है ? 1
 (A) कृषि मज़दूर (B) बैंक मैनेजर
 (C) राजपत्रित अधिकारी (D) सैनिक

वर्णनात्मक-1 (उत्तर लगभग 80 शब्दों में दीजिए)

21. भारत छोड़ो आन्दोलन के प्रमुख कारणों का उल्लेख कीजिए । 4
अथवा
जोसेफ मेज़िनी (मेत्सिनी) के विचारों पर प्रकाश डालिए । 4
22. लोकतांत्रिक सरकार की चुनौतियों का उल्लेख कीजिए । 4
अथवा
क्या भारतीय संघ एक अर्ध-संघीय ढाँचा है ? आलोचनात्मक परीक्षण कीजिए । 4
23. सड़क परिवहन के सापेक्षिक लाभों की विवेचना कीजिए । 4
अथवा
वाणिज्यिक कृषि की विशेषताओं का उल्लेख कीजिए । 4
24. विश्व व्यापार संगठन के क्रियाकलापों का वर्णन कीजिए । 4
अथवा
उपभोक्ता जागरूकता हेतु कोई चार उपाय सुझाइए । 4

वर्णनात्मक-2 (उत्तर लगभग 150 शब्दों में दीजिए)

25. यूरोप में राष्ट्रवाद के उदय में जर्मनी एवं इटली के एकीकरण का योगदान बताइए । 3+3
अथवा
प्रौद्योगिकी ने वैश्वीकरण की प्रक्रिया को किस प्रकार उत्प्रेरित किया है ? उदाहरणों सहित स्पष्ट कीजिए । 6
26. भारत की विधायिकाओं में महिलाओं के प्रतिनिधित्व की स्थिति क्या है ? 6
अथवा
भारत में स्थानीय स्वशासन से आप क्या समझते हैं ? इस शासन के किन्हीं दो गुणों एवं किन्हीं दो दोषों का उल्लेख कीजिए । 2+2+2

27. मृदा संसाधन के महत्त्व का वर्णन कीजिए एवं किन्हीं दो प्रकार की मृदाओं की विशेषताओं का उल्लेख कीजिए। 2+4

अथवा

भू-संसाधन से क्या तात्पर्य है ? भारत के भू-उपयोग में आवश्यक परिवर्तनों हेतु कोई चार उपाय सुझाइए। 2+4

28. अर्थव्यवस्था के क्षेत्रक से क्या तात्पर्य है ? द्वितीयक क्षेत्रक की विशेषताओं की विवेचना कीजिए। 2+4

अथवा

संगठित एवं असंगठित क्षेत्रकों में विभेद कीजिए एवं असंगठित क्षेत्रक के कर्मचारियों की समस्याओं पर प्रकाश डालिए। 2+4

(मानचित्र सम्बन्धी प्रश्न)

29. (क) निम्नलिखित स्थानों को भारत के दिए गए रेखा-मानचित्र (पृष्ठ 13 पर) में \odot चिह्न द्वारा नाम सहित दर्शाइए। सही नाम तथा सही स्थान अंकन हेतु $\frac{1}{2}$, $\frac{1}{2}$ अंक निर्धारित है।

- (i) वह स्थान जहाँ वर्ष 1927 में भारतीय राष्ट्रीय काँग्रेस का अधिवेशन हुआ था। $\frac{1}{2} + \frac{1}{2}$
- (ii) वह स्थान जहाँ नील की खेती करने वाले किसानों ने सत्याग्रह आंदोलन किया था। $\frac{1}{2} + \frac{1}{2}$
- (iii) उत्तर प्रदेश का वह स्थान जहाँ से असहयोग आंदोलन की शुरुआत हुई। $\frac{1}{2} + \frac{1}{2}$
- (iv) वह स्थान जहाँ पर सूती मिल श्रमिकों ने सत्याग्रह आंदोलन किया था। $\frac{1}{2} + \frac{1}{2}$
- (v) वह स्थान जहाँ अलियाँवाला बाग काण्ड हुआ। $\frac{1}{2} + \frac{1}{2}$

29. (ख) निम्नलिखित स्थानों को भारत के दिए गए रेखा-मानचित्र (पृष्ठ 15 पर) में चिह्न द्वारा नाम सहित दर्शाइए। सही नाम तथा सही स्थान अंकन हेतु $\frac{1}{2}$, $\frac{1}{2}$ अंक निर्धारित है।

- (i) दक्षिण भारत की एक नदी \curvearrowright चिह्न द्वारा नाम सहित। $\frac{1}{2} + \frac{1}{2}$
- (ii) कपास उत्पादन का एक प्रमुख क्षेत्र \square चिह्न द्वारा नाम सहित। $\frac{1}{2} + \frac{1}{2}$
- (iii) ओडिशा का एक समुद्र-पत्तन (बन्दरगाह) \triangle चिह्न द्वारा नाम सहित। $\frac{1}{2} + \frac{1}{2}$
- (iv) एक परमाणु ऊर्जा केन्द्र \oplus चिह्न द्वारा नाम सहित। $\frac{1}{2} + \frac{1}{2}$
- (v) असम का राजधानी नगर \odot चिह्न द्वारा नाम सहित। $\frac{1}{2} + \frac{1}{2}$

(केवल दृष्टिबाधित परीक्षार्थियों के लिए प्रश्न संख्या 29 (क) के मानचित्र-कार्य के विकल्प स्वरूप)

निर्देश: निम्नलिखित प्रश्नों के उत्तर अपनी उत्तर-पुस्तिका में लिखिए। मानचित्र का प्रयोग न कीजिए।

- (i) वर्ष 1927 में भारतीय राष्ट्रीय कांग्रेस का अधिवेशन कहाँ हुआ था ? 1
- (ii) नील की खेती करने वाले किसानों ने कहाँ पर सत्याग्रह आंदोलन किया था ? 1
- (iii) असहयोग आंदोलन की शुरुआत उत्तर प्रदेश में कहाँ से हुई थी ? 1
- (iv) सूती मिल श्रमिकों ने कहाँ पर सत्याग्रह किया था ? 1
- (v) जलियाँवाला बाग काण्ड कहाँ पर हुआ था ? 1

(केवल दृष्टिबाधित परीक्षार्थियों के लिए प्रश्न संख्या 29 (ख) के मानचित्र-कार्य के विकल्प स्वरूप)

निर्देश: निम्नलिखित प्रश्नों के उत्तर अपनी उत्तर-पुस्तिका में लिखिए। मानचित्र का प्रयोग न कीजिए।

- (i) दक्षिण भारत की एक नदी का नाम लिखिए। 1
- (ii) कपास के एक प्रमुख उत्पादक क्षेत्र का नाम लिखिए। 1
- (iii) ओडिशा के एक समुद्र-पत्तन (बन्दरगाह) का नाम लिखिए। 1
- (iv) एक परमाणु ऊर्जा केन्द्र का नाम लिखिए। 1
- (v) असम के राजधानी नगर का नाम लिखिए। 1

(English Version)

General Instructions :

- (i) First 15 minutes are allotted for examinees to read this question paper.
- (ii) All questions are **compulsory**.
- (iii) This question paper is divided into **two parts, A and B**.
- (iv) In **Part-A**, there are 20 multiple choice type questions of 20 marks. Answer should be given on OMR sheet.
- (v) After marking your answer on OMR sheet, do not cut it or use eraser or whitener to remove it.
- (vi) 50 marks are allotted to **Part-B**. It contains two types of questions, Descriptive-1 and Descriptive-2. There are two map related questions (Q. No. 29 (a) and 29 (b)).
- (vii) Marks allotted for each question are mentioned against them.
- (viii) Tear off the supplied maps from the question paper, indicate answer on them and compulsorily attach them firmly to your answer-book.
- (ix) For Vision-impaired examinees, questions have been given separately for writing answers in lieu of map-work.

PART-A

(Multiple Choice Type Questions)

1. When was the Indian National Congress established ? 1
(A) 1882 (B) 1885 (C) 1887 (D) 1880
2. When did the Great Economic Depression begin ? 1
(A) 1928 (B) 1929 (C) 1930 (D) 1932
3. Who gave this statement "When France sneezes, the rest of Europe catches a cold" ? 1
(A) Bismarck (B) Cavour
(C) Mazzini (D) Metternich
4. Who had a major role in the unification of Germany ? 1
(A) Giuseppe Garibaldi (B) Napoleon Bonaparte
(C) Otto von Bismarck (D) William I
5. Who is addressed as the "Father of the Nation" in India ? 1
(A) Jawaharlal Nehru (B) Mahatma Gandhi
(C) Bal Gangadhar Tilak (D) Sardar Patel

6. Power is shared among which of the following in the Community Government of Belgium ? 1
- (A) Different social groups
 (B) Different organs of Government
 (C) Central and State Governments
 (D) State Government and Community Government
7. Which one of the following is the subject of the Union List ? 1
- (A) Trade (B) Agriculture (C) Education (D) Defence
8. How many States are there in the Indian federation ? 1
- (A) 26 (B) 27 (C) 28 (D) 29
9. If we talk about gender discrimination, it means 1
- (A) Unequal role of men and women in society
 (B) Biological differences between men and women
 (C) Inequality in number of boys and girls
 (D) None of these
10. Which is the most spoken language in India ? 1
- (A) Punjabi (B) Kashmiri (C) Hindi (D) Urdu
11. Which of the following is a conventional resource ? 1
- (A) Wind energy (B) Solar energy
 (C) Natural gas (D) Tidal energy
12. In which of the following States are laterite soils found ? 1
- (A) Rajasthan (B) Himachal Pradesh
 (C) Maharashtra (D) Uttar Pradesh
13. Which of the following States is the major producer of copper ? 1
- (A) Madhya Pradesh (B) Uttar Pradesh
 (C) Tamil Nadu (D) Bihar
14. Which of the following minerals is non-metallic ? 1
- (A) Manganese (B) Mica
 (C) Bauxite (D) Zinc
15. Which of the following resource is abiotic ? 1
- (A) Livestock (B) Natural vegetation
 (C) Rocks (D) Fish

16. In which of the following States is the literacy rate the highest ? 1
 (A) Bihar (B) West Bengal
 (C) Kerala (D) Madhya Pradesh
17. Who among the following persons is related to the Primary sector of the economy ? 1
 (A) Fisherman (B) Teacher
 (C) Postman (D) Businessman
18. When was the Right to Information Act implemented ? 1
 (A) 2005 (B) 2010 (C) 1999 (D) 2001
19. Where should the consumer go to get justice ? 1
 (A) Police Station
 (B) Civil Court
 (C) Appropriate Consumer Centre (Forum)
 (D) District Magistrate
20. Which of the following persons belong to the Unorganized sector ? 1
 (A) Agricultural labourer (B) Bank Manager
 (C) Gazetted Officer (D) Soldier

PART-B

Descriptive-1 (Give answer in about 80 words)

21. Mention the main causes of Quit India Movement. 4
 OR
 Throw light on the thoughts of Joseph Mazzini. 4
22. Mention the challenges of a democratic government. 4
 OR
 Examine critically whether the Indian Union is a quasi-federal structure. 4
23. Discuss the relative advantages of road transport. 4
 OR
 Mention the characteristics of commercial agriculture. 4
24. Describe the activities of World Trade Organization. 4
 OR
 Suggest any four measures for the awareness of consumers. 4

Descriptive-2 (Give answer in about 150 words)

25. What was the role of the unification of Germany and Italy in the rise of European Nationalism ? 3+3

OR

How has technology stimulated the globalization process ? Explain with examples. 6

26. What is the status of representation of women in the legislatures of India ? 6

OR

What do you understand by local self-government in India ? Mention any two merits and any two demerits of this government. 2+2+2

27. Describe the importance of soil resource and mention the characteristics of any two types of soils. 2+4

OR


What is meant by land resource ? Suggest any four measures for the needed changes in the land use of India. <https://www.upboardonline.com> 2+4

28. What is meant by sector of economy ? Discuss the characteristics of secondary sector. 2+4



OR

Distinguish between Organized and Unorganized sectors and throw light on the problems of the workers of Unorganized sector. 2+4

(Questions related to Map)

29. (a) In the given outline map of India (on page 13), locate the following places by the symbol  with names. For correct mention of name and location $\frac{1}{2}, \frac{1}{2}$ marks have been allotted.
- (i) The place where the Indian National Congress held its session in the year 1927. $\frac{1}{2} + \frac{1}{2}$
- (ii) The place where Indigo planters held their Satyagraha Movement. $\frac{1}{2} + \frac{1}{2}$
- (iii) The place in Uttar Pradesh from where Non-Cooperation Movement started. $\frac{1}{2} + \frac{1}{2}$
- (iv) The place where Cotton Mill workers held Satyagraha Movement. $\frac{1}{2} + \frac{1}{2}$
- (v) The place where Jallianwala Bagh incident took place. $\frac{1}{2} + \frac{1}{2}$

29. (b) In the given outline map of India (on page 15), locate the following places by symbol with names. For correct mention of name and location $\frac{1}{2}, \frac{1}{2}$ marks have been allotted.

- | | |
|---|-----------------------------|
| (i) One river of South India by symbol  with name. | $\frac{1}{2} + \frac{1}{2}$ |
| (ii) One main cotton producing area by symbol  with name. | $\frac{1}{2} + \frac{1}{2}$ |
| (iii) One sea port of Odisha by symbol Δ with name. | $\frac{1}{2} + \frac{1}{2}$ |
| (iv) One Atomic Power Station by symbol \oplus with name. | $\frac{1}{2} + \frac{1}{2}$ |
| (v) The capital city of Assam by symbol \odot with name. | $\frac{1}{2} + \frac{1}{2}$ |

(Only for Visually-Impaired Examinees in lieu of Q. No. 29 (a) Map-Work)

Instructions : Write answers of the following questions in your answer-book. Do not use map.

- | | |
|--|---|
| (i) Where did Indian National Congress hold its Session in the year 1927 ? | 1 |
| (ii) Where did Indigo planters hold their Satyagraha Movement ? | 1 |
| (iii) From where in Uttar Pradesh did the Non-Cooperation Movement start ? | 1 |
| (iv) Where did Cotton Mill workers hold their Satyagraha Movement ? | 1 |
| (v) Where did the Jallianwala Bagh incident take place ? | 1 |

(Only for Visually-Impaired Examinees in lieu of Q. No. 29 (b) Map-Work)

Instructions : Write answers of the following questions in your answer-book. Do not use map.

- | | |
|--|---|
| (i) Write the name of one river of South India. | 1 |
| (ii) Write the name of one main cotton producing area. | 1 |
| (iii) Write the name of one sea port of Odisha. | 1 |
| (iv) Write the name of one Atomic power station. | 1 |
| (v) Write the name of the capital city of Assam. | 1 |